




Adı Soyadı :


Numarası :

Konu: Bir Çokluğun Belirtilen Bir Basit Kesir Kadarını Belirleme Etkinliği 3


Aşağıda belirtilen varlıkların basit kesir kadarını bulunuz.



12 tane kelebeğin $\frac{1}{4}$ 'i kaç kelebek eder?
.....



21 tane arının $\frac{2}{7}$ 'si kaç kelebek eder?
.....

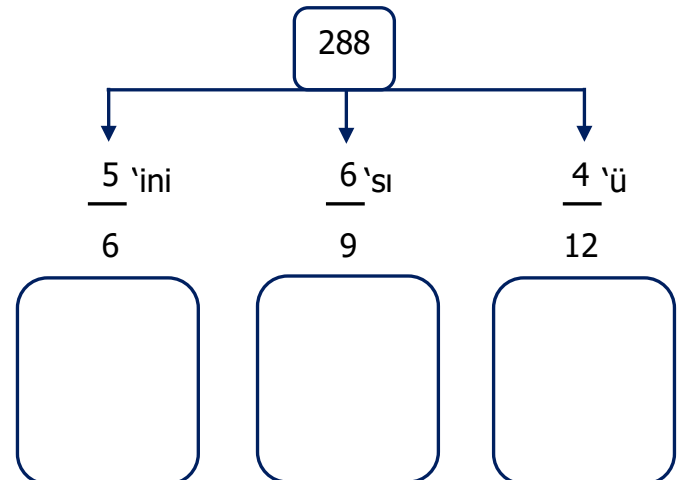
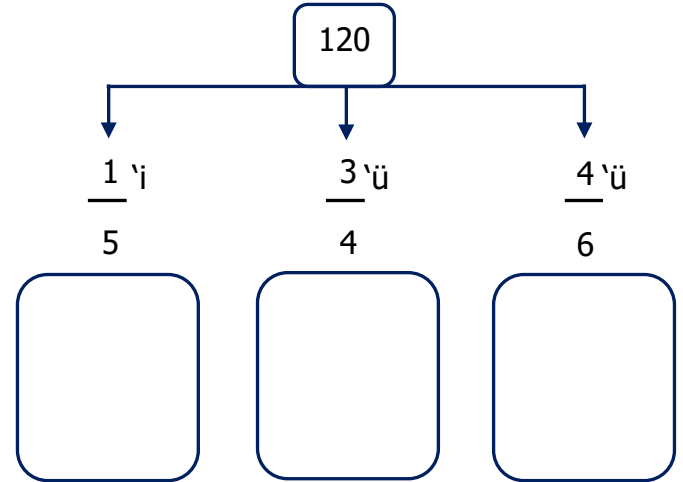
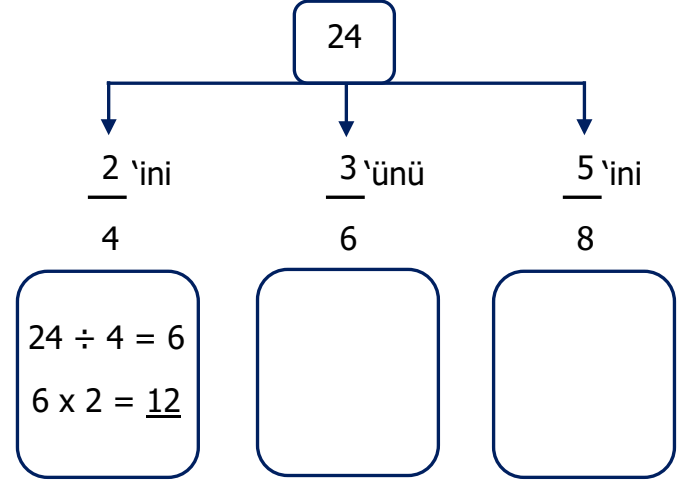


36 tane papatyanın $\frac{3}{6}$ 'ü kaç kelebek eder?
.....



27 tane cevizin $\frac{4}{9}$ 'i kaç kelebek eder?
.....

Aşağıda verilen sayıların belirtilen kesir kadarını örnekteki gibi bulalım.



Aşağıda verilen çokluklardan istenilen kesir kadarını bulunuz.

Bir manav 48 tane limonun $\frac{2}{6}$ 'sini sattı.

Manav kaç tane limon satmıştır?

Çözüm:

Bir oyuncak fabrikasında üretilen 288 adet

oyuncağın $\frac{5}{9}$ 'i satılmıştır. Toplam kaç

oyuncak satılmıştır?

Çözüm:

Okulumuzda 320 öğrencinin $\frac{3}{8}$ 'ü

kızıdır. Okulumuzda kaç kız öğrenci vardır?

Çözüm:

Yolcu otobüsü 650 kilometreli yolun $\frac{2}{5}$ 'sini

gitti. Otobüs kaç km yol gitmiştir?

Çözüm:

Bahçemizdeki 124 ağacın $\frac{2}{4}$ 'si elmadır.

Bahçemizde kaç tane elma ağacı vardır?

Çözüm:

Ali, 252 sayfalık kitabın $\frac{3}{6}$ 'ünü okudu. Ali

kaç sayfa kitap okumuştur?

Çözüm:

Yaşar, 420 TL'nin $\frac{5}{7}$ 'ini harcadı. Yaşar

kaç TL harcamıştır?

Bir çiftlikteki 720 hayvanın $\frac{2}{5}$ 'si inektir.

Bu çiftlikteki ineklerin sayısı kaçtır?

Çözüm:

Aşağıda verilen çokluklardan istenilen kesir kadarını bulunuz.

Bir fırındaki 720 ekmeğin $\frac{2}{10}$ 'sini satıldı.

Geriye kaç ekmek kaldı?

Çözüm:

Kalan:

Manavdaki 72 kg elmanın $\frac{4}{9}$ 'ü satılıyor.

Geriye kaç kg elma kalmıştır?

Çözüm:

Kalan:

Bir sinema salonundaki 344 seyircinin $\frac{3}{8}$ 'ü bayandır. Buna göre erkeklerin sayısı kaçtır?

Çözüm:

Kalan:

Ayşe, 138 sayfalık hikaye kitabının $\frac{4}{6}$ 'ünü okudu. Geriye okuması gereken kaç sayfası kaldı?

Çözüm:

Kalan:

Babam cebindeki 600 TL'nin $\frac{2}{5}$ 'sini anneme verdi. Babamın geriye kaç TL'si kaldı?

Çözüm:

Kalan:

Bir çiftçi tarladan topladığı 735 kg patatesin $\frac{2}{7}$ 'sini markete satıyor. Geriye kaç kg patatesi kalmıştır?

Çözüm:

Kalan:

Bir simitçi 292 simitin $\frac{3}{4}$ 'ünü satmıştır. Geriye kaç tane simiti kalmıştır?

Çözüm:

Kalan:

Emre 256 tane misketin $\frac{3}{8}$ 'ini Mert'e verdi. Emre'nin kaç misketi kalmıştır?

Çözüm:

Kalan: